







به نام خدا

آزمون ریاضی از فصل اول و دوم و سوم و چهارم نام و نام خانوادگی: تاریخ: ۱۳۹۹/۱۲/۰۲

مدت آزمون: ۶۰ دقیقه آموزگار: زهرا عصایی کلاس چهارم دبستان شاهد

ردیف	سوالات
۱	<p>عدد های زیر را به رقم بنویسید.</p> <p>(الف) دویست میلیون و بیست (ب) هشتاد و نه هزار و صد و سی</p>
۲	<p>در الگوی زیر شکل بعدی را رسم کنید.</p> <div style="display: flex; justify-content: space-around; align-items: center;"> <div style="text-align: center;">  <p>شکل اول</p> </div> <div style="text-align: center;">  <p>شکل دوم</p> </div> <div style="text-align: center;">  <p>شکل سوم</p> </div> <div style="text-align: center;">  <p>شکل چهارم</p> </div> </div>
۳	<p>از هر کدام از شکل های زیر را رسم کنید.</p> <div style="display: flex; justify-content: space-around; align-items: center;"> <div style="text-align: center;">  </div> <div style="text-align: center;">  </div> </div>
۴	<p>کشاورزی زمین کشاورزی خود را به دو قسمت مساوی تقسیم کرد. $\frac{1}{4}$ آن را جو و $\frac{7}{13}$ از نصف دیگر را گندم کاشت.</p> <p>(الف) چه کسری از مزرعه زیر کشت رفته است؟</p> <p>(ب) چه کسری از مزرعه کاشته نشده است؟</p>